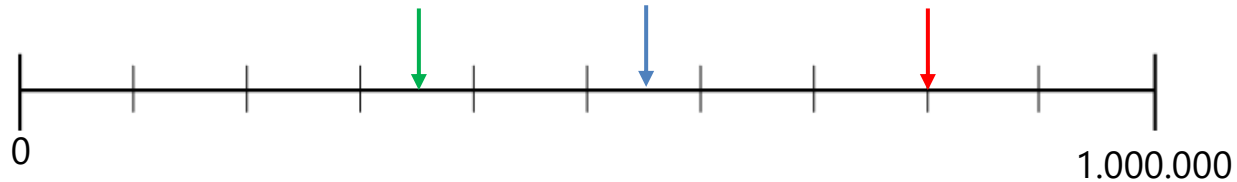


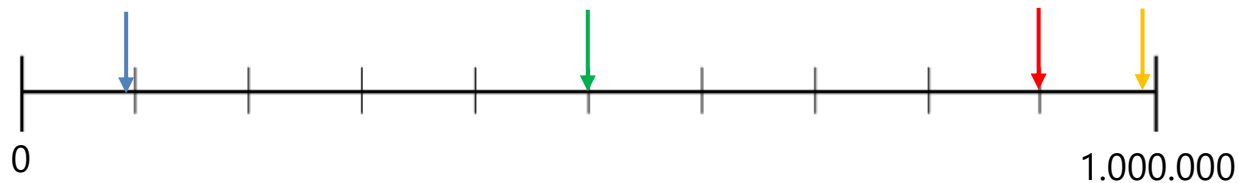
Getalbegrip

Ik kan de getallen tot een miljoen plaatsen op de getallenlijn.

- A.** Welke getallen wijzen de groene, blauwe en rode pijl aan?



- B.** Welke pijl wijst het getal '**0,9 miljoen**' aan?



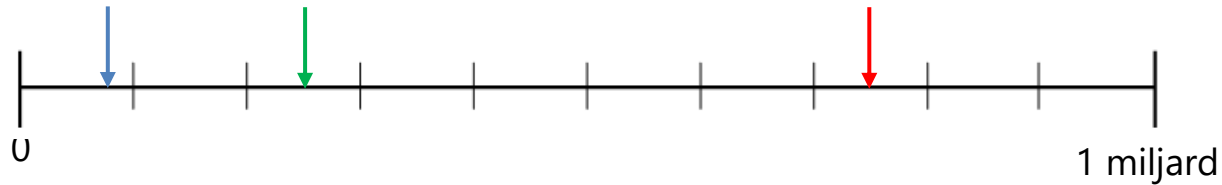
- C.** Welke pijl wijst het getal '**439.000**' aan?



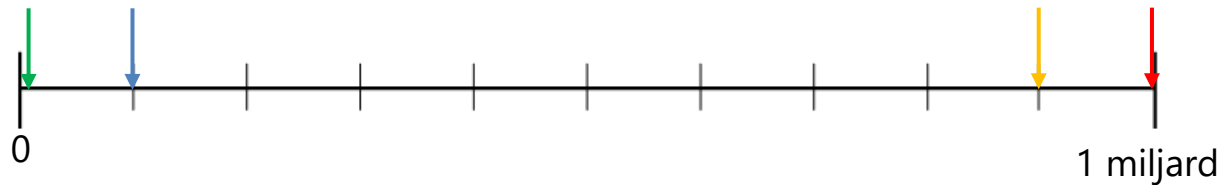
Getalbegrip

Ik kan de getallen tot een miljard plaatsen op de getallenlijn.

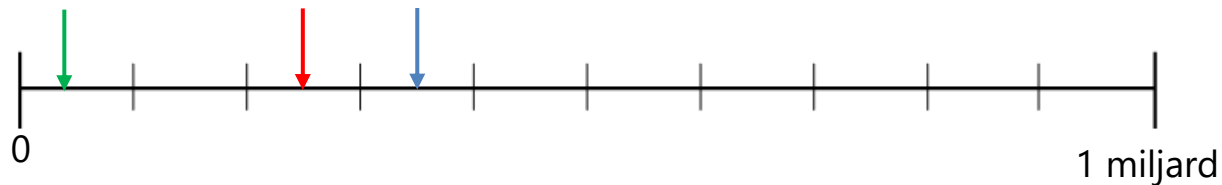
A. Welke pijl wijst het getal **'750 miljoen'** aan?



B. Welke pijl wijst het getal **'99.000.000'** aan?



C. Welke pijl wijst het getal **'0,35 miljard'** aan?



Getalbegrip

Ik kan de getallen tot een miljoen op volgorde zetten en plaatsen op de getallenlijn.

A. Waar horen de getallen op de getallenlijn?

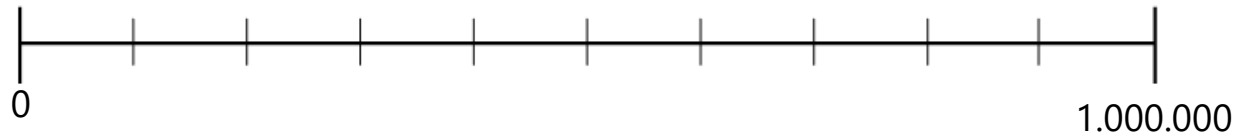
0,4 miljoen



569.999



98 duizend



B. Waar horen de getallen op de getallenlijn?

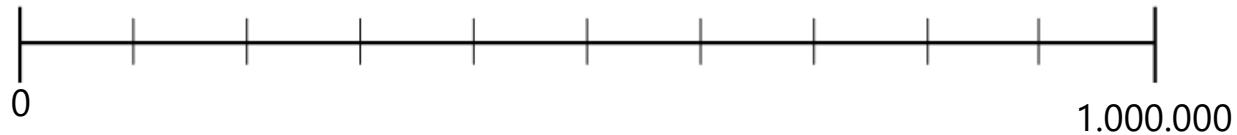
795.000



0,95 miljoen



3,2 ton



Getalbegrip

Ik kan kommagetallen op volgorde van klein naar groot zetten.

- A. Zet de volgende getallen op volgorde van klein naar groot.

0,9	0,79	0,333	0,25

- B. Zet de volgende getallen op volgorde van klein naar groot.

0,65	0,8	0,785	0,0999

- C. Zet de volgende getallen op volgorde van klein naar groot.

0,1999	0,21	0,0222	0,202

Getalbegrip

Ik kan (komma)getallen afronden.

Rond af op helen.



Een gemiddeld Nederlands gezin heeft 1,7 kinderen.

Rond af op een honderdduizendtal.



Nederland heeft 17.084.719 inwoners.

Rond af op een duizendtal.



De oppervlakte van Nederland is 42.508 m²

Rond af op tienden.



Gemiddeld fietst een Nederlander 2,48 km per dag.

Rond af op een honderdsten.



Een Nederlander eet gemiddeld per jaar 1,8825 kg drop